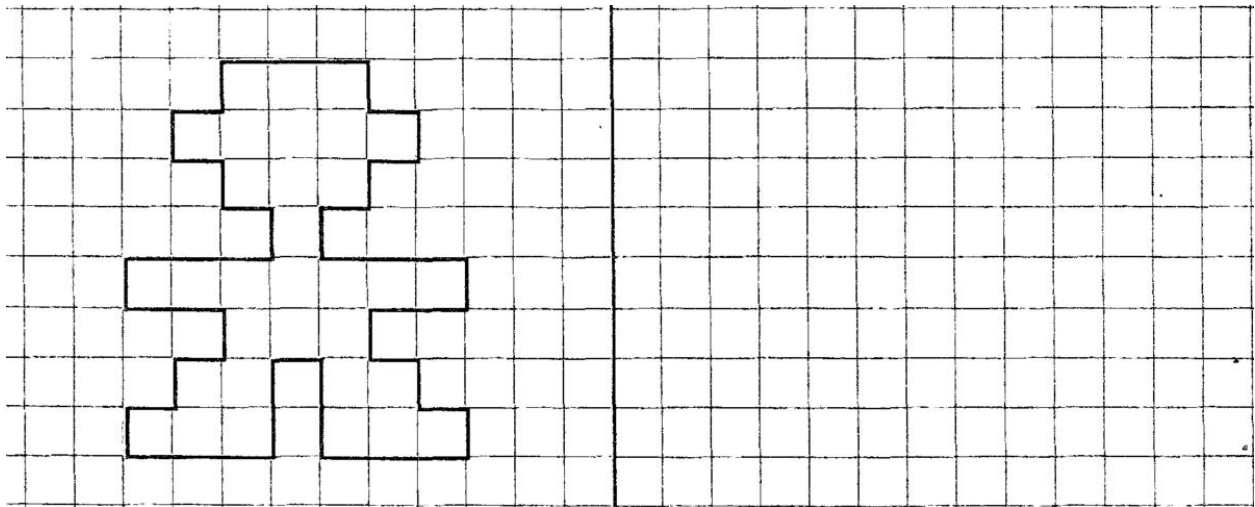


## Познавательное развитие. Формирование элементарных математических представлений.

### 1. Ответь на вопросы:


- ✓ Сколько всего дней в неделе?
- ✓ Какой сегодня день?
- ✓ Как называется пятый по счету день недели?
- ✓ Сколько времен года?
- ✓ Какое сейчас время года?
- ✓ Как называется первый месяц весны? Второй? Третий?

### 2. Повтори рисунки по клеточкам




### 3. Помоги девочке добраться до домика. Нарисуй ее путь, начиная от стрелки:

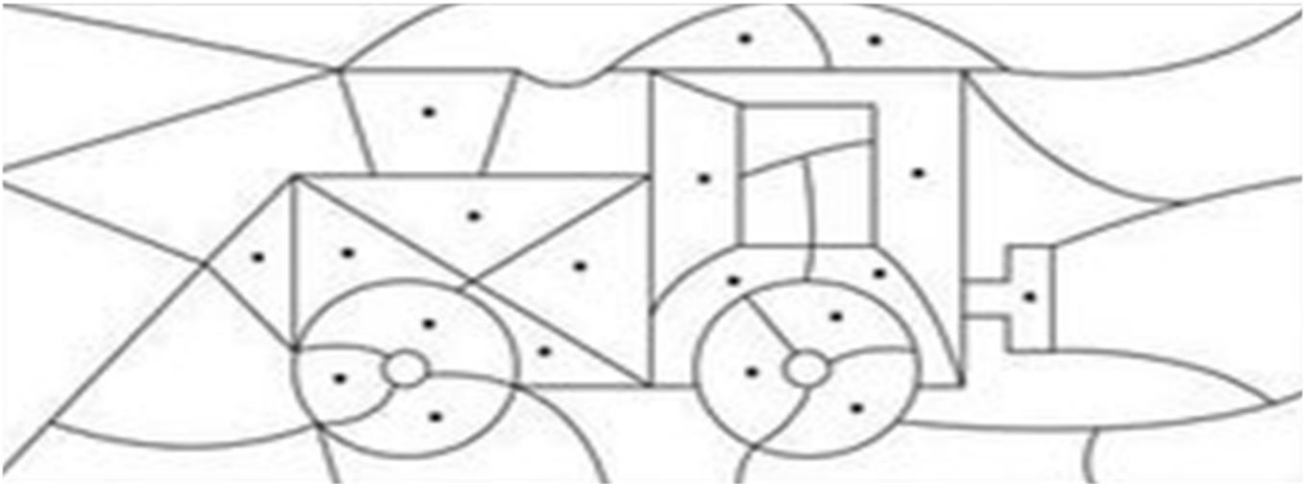
- одна клеточка вверх
- две клеточки влево
- две клеточки вверх
- одна клеточка вправо
- одна клеточка вниз
- одна клеточка вправо
- две клеточки вверх
- одна клеточка вправо
- две клеточки вверх
- одна клеточка влево
- одна клеточка вниз
- две клеточки влево
- одна клеточка вверх



4. В каком доме живет девочка? Нарисуй ее путь глядя на схему.




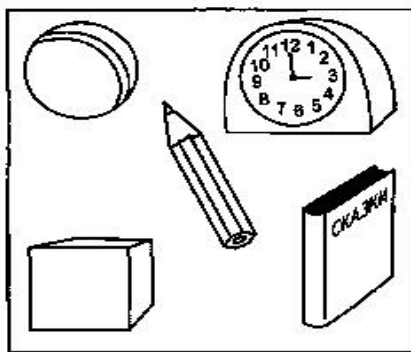

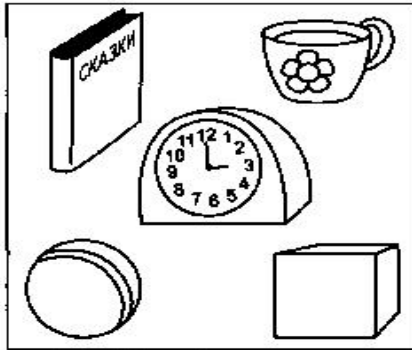
5. Раскрась на рисунке только детали с точками. Что получилось?



6. Раскрась мяч, который перед кубиком, в синий цвет, за кубиком – в красный, на кубике – в желтый.



7. Рассмотр и раскрась все предметы, которые нарисованы в верхних правых углах квадратов в синий цвет; в верхних левых – в красный; в нижних левых – в зеленый; в нижних правых – в коричневый; в центре – в желтый.



8. Нарисовать прямоугольник 15x10. Дать задание: Нарисуй в правом верхнем углу квадрат. В левом нижнем углу прямоугольник. В левом верхнем углу треугольник. В правом верхнем углу круг. Посередине овал.